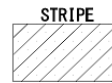

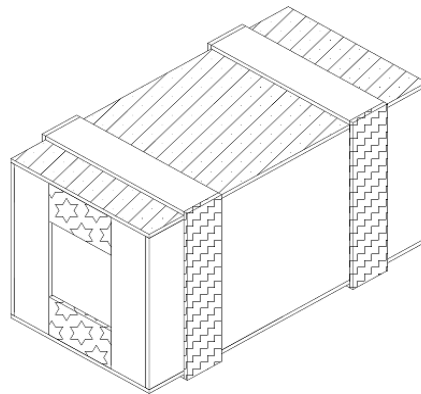


こうぎょうほうそうぶもん
工業包装部門

もんだい
問題！ つぎ ず にほんさんぎょうきかく ふうきばこ がいけいず しめ
次の図は日本産業規格（JIS）による「普通木箱」の外形図を示して
いる。STRIFE部分の名称として正しいものを、選択肢A～Dの中か
えら
ら選えらびなさい。

I



せんたくし
選択肢

- A. つまさん棧
- B. 側がわさん棧
- C. つまよこさん横棧
- D. 蓋ふた

せいとう
正答 D

もんだい 問題2 もくざい せつだん さい てんどうまるのこ あんぜん しょう しせい ただ 木材を切断する際、電動丸ノコを安全に使用する姿勢として正しいも

のを、せんたくし 選択肢 A～D のなかから えら 選びなさい。

2

せんたくし
選択肢

A.



まるのこ しんたい しょうめん も
丸ノコは身体の正面に持っ
て作業をする。

B.



まるのこ でんげんこーど ごせつ
丸ノコの電源コードは誤切
断を防ぐために肩に担いで
作業をする。

C.



せつだん もくざい
切断する木材はしっかりと
押えるために身体の正面で
おさえる。

D.



まるのこ ベースプレートと
丸ノコのベースプレートを
もくざい ふ
木材に触れさせないために
まるのこ りょうて も
丸ノコは両手で持って作
業をする。

せいとう
正答

B