





仕上げ部門

（治工具）

問題1 鉄鋼を荒削りするときに使用するやすりの形状を、選択肢A～Dの中から選びなさい。

I

選択肢

A		ひらがた 平形
B		まるがた 丸形
C		さんかくけい 三角形
D		かくながた 角形

正答 D

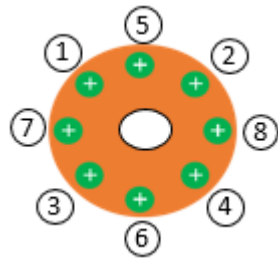
かながた  
(金型)

もんだい  
問題2 ボルトを締めるときの正しい順番を、選択肢A～Dの中から選びなさい。

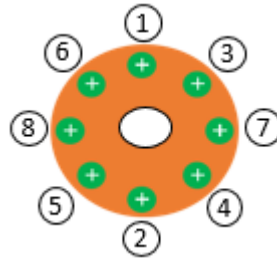
2

せんたくし  
選択肢

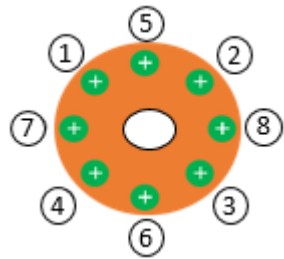
A



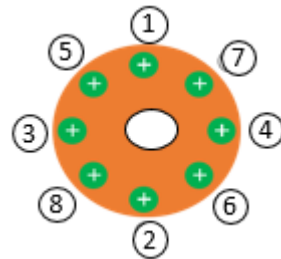
B



C



D



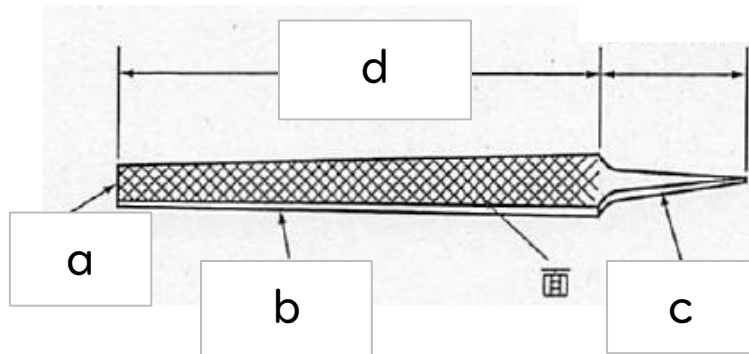
せいとう  
正答

D

き かいくみたて  
(機械組立)

もんだい  
問題3 やすり各部の名称 (a, b, c, d) の組み合わせとして適切なものを、  
せんたくし  
選択肢 A ~ D の中から選びなさい。

3



せんたくし  
選択肢

- A. a : こみ b : こば c : 穂先 d : 呼び寸法  
B. a : 穂先 b : こば c : こみ d : 呼び寸法  
C. a : こば b : 呼び寸法 c : こみ d : 穂先  
D. a : 穂先 b : 呼び寸法 c : こば d : こみ

せいとう  
正答 C