




てっこうぶもん
鉄工部門

もんだい
問題！ 「けがき」を行う際、もっとも正確な位置に「けがき」を行うこと
ができる道具を、選択肢A～Dの中から選びなさい。

1

せんたくし
選択肢

A	<p>すみざ 墨刺し</p> 
B	<p>いしふで ちよーく 石筆 (チョーク)</p> 
C	<p>すちーるまーかー スチールマーカー</p> 

はり
けがき針

D

